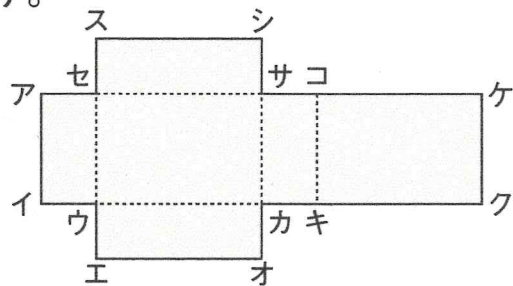


1 下の直方体のてん開図を組み立てます。



① 点キと重なる点はどれですか。

てん点

② 点ケと重なる点は何と何ですか。

てん点 と てん点

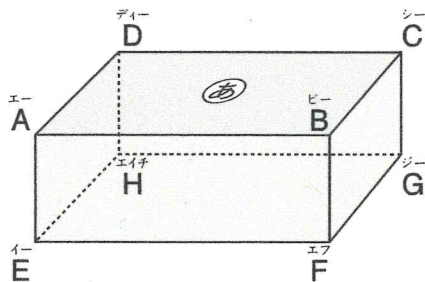
③ 辺アイと重なる辺はどれですか。

へん辺

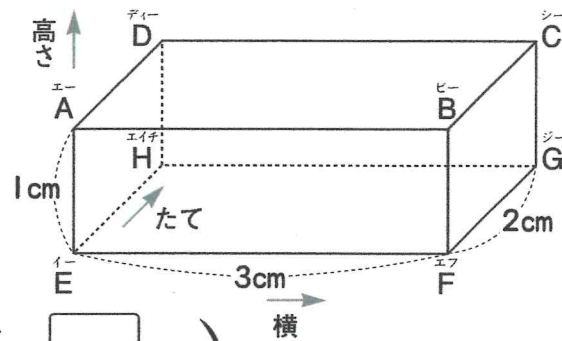
④ 辺キクと重なる辺はどれですか。

へん辺

2 下の直方体について、問題に答えましょう。



3 右の直方体で、頂点Eをもとにして、次の位置を表しましょう。



⑧ 頂点B (横  cm, たて  cm, たかさ  cm)

⑨ 頂点G (横  cm, たて  cm, たかさ  cm)

⑩ 頂点H (横  cm, たて  cm, たかさ  cm)

⑤ 辺ABに平行な辺はどれですか。

へん辺  へん辺  へん辺

⑥ 辺CGに垂直な辺はどれですか。

へん辺  へん辺  へん辺  へん辺

⑦ 面あに垂直な辺はどれですか。

へん辺  へん辺  へん辺  へん辺