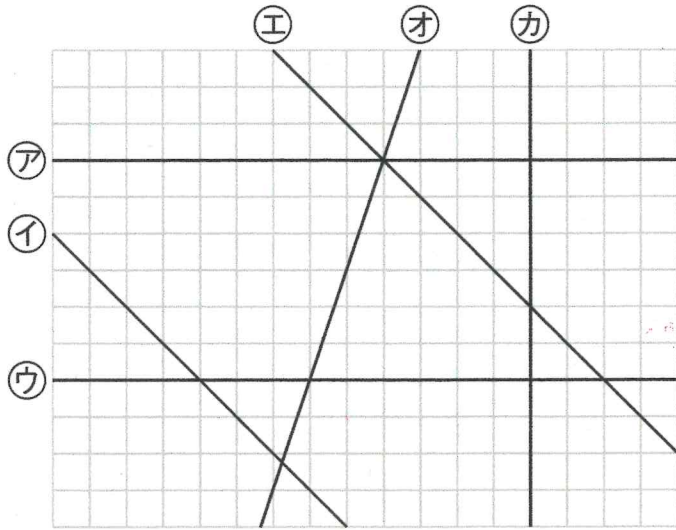


1 ^{した} ^ず 下の図について、^{もんだい} ^{こた} 問題に答えましょう。

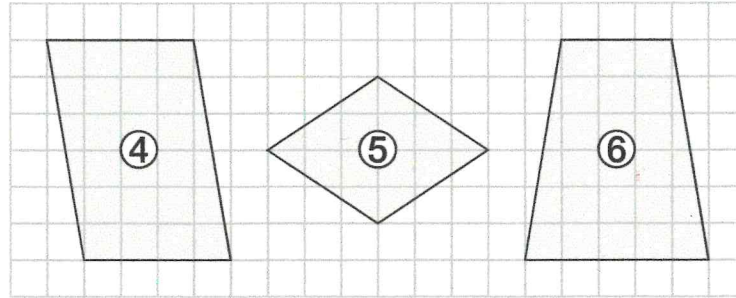


① ^{ちよくせん} ^{すいちよく} ^{ちよくせん} アの直線に垂直な直線はどれですか。

② ^{ちよくせん} ^{へいこう} ^{ちよくせん} イの直線に平行な直線はどれですか。

③ ^{ちよくせん} ^{へいこう} ^{ちよくせん} ウの直線に平行な直線はどれですか。

2 ^{した} ^{しかくけい} ^{なまえ} ^か 下の四角形の名前を書きましょう。

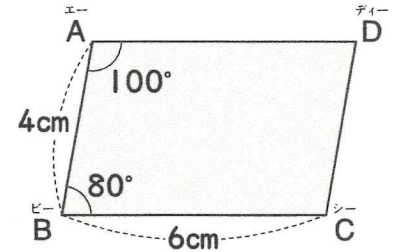


④

⑤

⑥

3 ^{みぎ} ^ず 右の図のような^{へいこうし} ^{へんけい} 平行四辺形について、^{もんだい} ^{こた} 問題に答えましょう。



⑦ ^{へん} ^{エービー} ^{へいこう} ^{へん} 辺ABに平行な辺はどれですか。

^{へん}

⑧ ^{へん} ^{エーディー} ^{なが} ^{なん} 辺ADの長さは何cmですか。

⑨ ^{かく} ^{シー} ^{おお} ^{なんど} 角Cの大きさは何度ですか。

⑩ ^{かく} ^{ディー} ^{おお} ^{なんど} 角Dの大きさは何度ですか。