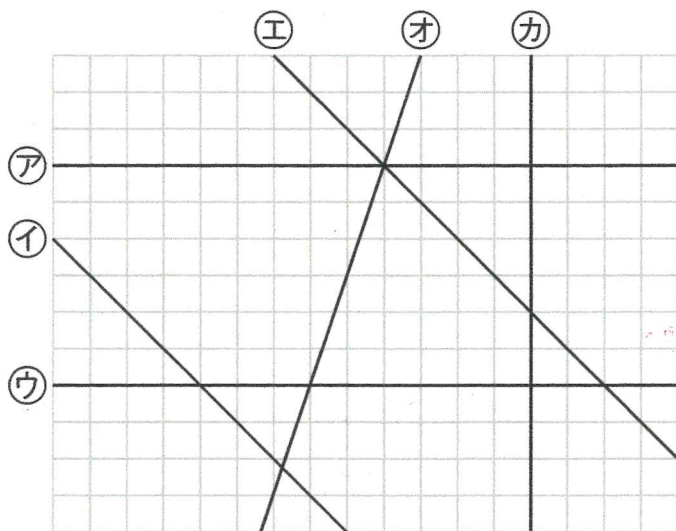


1 <sup>した</sup> <sup>ず</sup> 下の図について、<sup>もんだい</sup> <sup>こた</sup> 問題に答えましょう。



① <sup>ちよくせん</sup> <sup>すいちよく</sup> <sup>ちよくせん</sup> アの直線に垂直な直線はどれですか。

カ

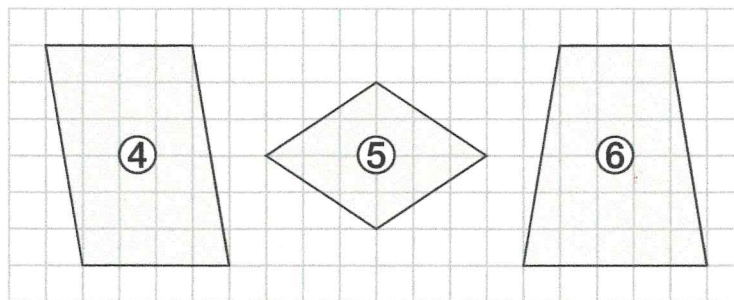
② <sup>ちよくせん</sup> <sup>へいこう</sup> <sup>ちよくせん</sup> イの直線に平行な直線はどれですか。

エ

③ <sup>ちよくせん</sup> <sup>へいこう</sup> <sup>ちよくせん</sup> ウの直線に平行な直線はどれですか。

ア

2 <sup>した</sup> <sup>しかくけい</sup> <sup>なまえ</sup> <sup>か</sup> 下の四角形の名前を書きましょう。

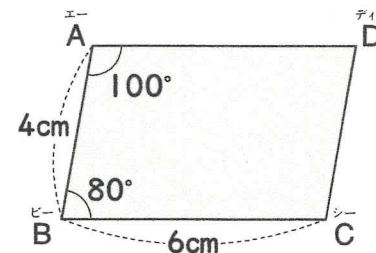


④ 平行四辺形

⑤ ひし形

⑥ 台形

3 <sup>みぎ</sup> <sup>ず</sup> 右の図のような<sup>へいこうし</sup> <sup>へんけい</sup> 平行四辺形について、<sup>もんだい</sup> <sup>こた</sup> 問題に答えましょう。



⑦ <sup>へん</sup> <sup>エービー</sup> <sup>へいこう</sup> <sup>へん</sup> 辺ABに平行な辺はどれですか。

辺 DC

⑧ <sup>へん</sup> <sup>エーディー</sup> <sup>なが</sup> <sup>なん</sup> 辺ADの長さは何cmですか。

6cm

⑨ <sup>かく</sup> <sup>シー</sup> <sup>おお</sup> <sup>なんど</sup> 角Cの大きさは何度ですか。

100°

⑩ <sup>かく</sup> <sup>ディー</sup> <sup>おお</sup> <sup>なんど</sup> 角Dの大きさは何度ですか。

80°