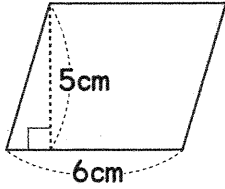


つぎ ずけい めんせき なん
次の図形の面積は何cm²ですか。

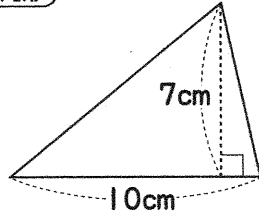
① 平行四辺形



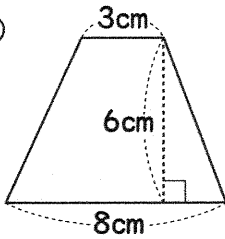
ヒント

平行四辺形の面積 = 底辺 × 高さ

② 三角形



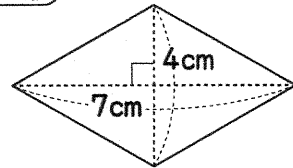
③ 台形



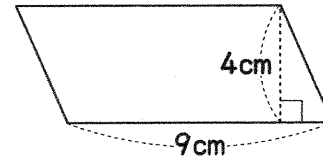
ヒント

台形の面積 = (上底 + 下底) × 高さ ÷ 2

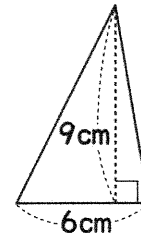
④ ひし形



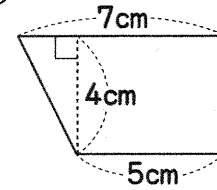
⑤ 平行四辺形



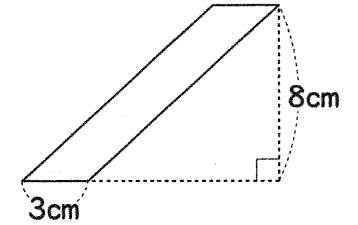
⑦ 三角形



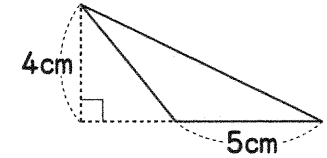
⑨ 台形



⑥



⑧



⑩ ひし形

