
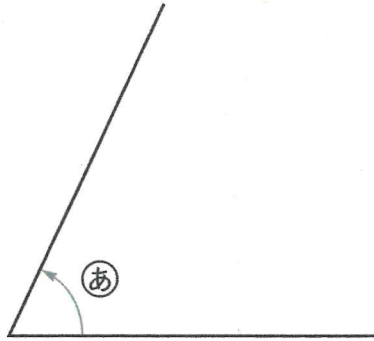


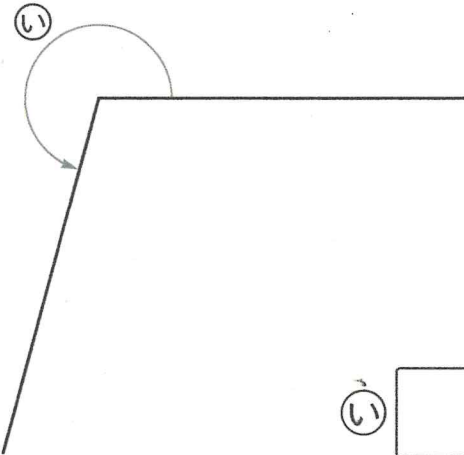
1  次の角度は何度ですか。分度器を使って
答えましょう。

①



あ

②



い

2  分度器を使って、辺アイの点アを頂点にした、次の角をかきましょう。

③ 80°



④ 145°



⑤ 230°

