

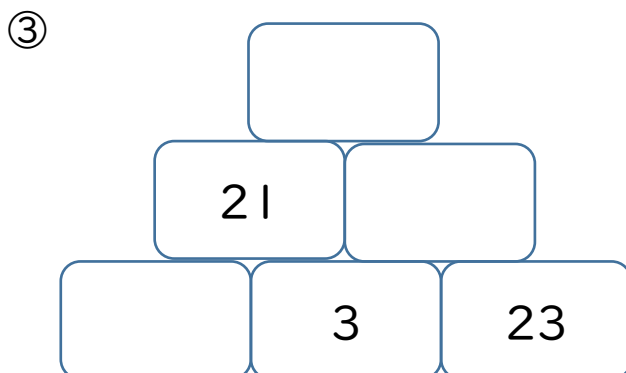
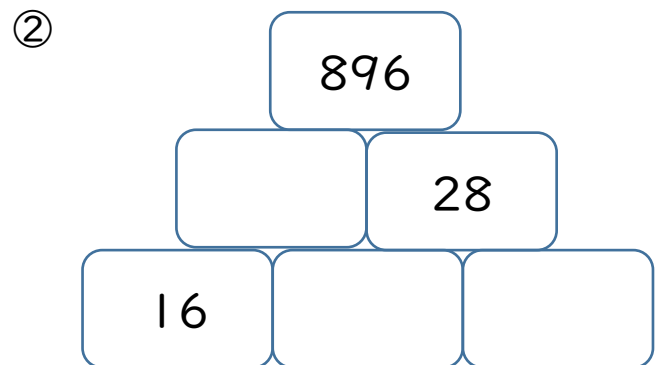
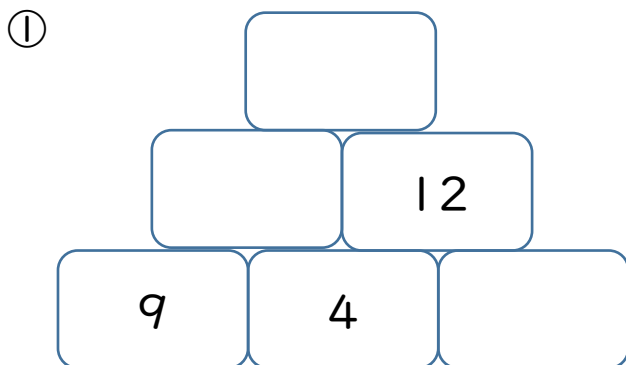
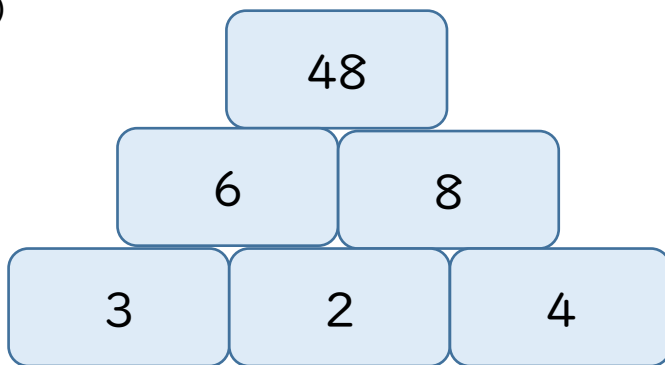
<p>5年生 算数</p> <p>4年生の復習プリント</p> <p>「おぼえているかな」(教科書下p12)</p>	<p>名前</p>
--	-----------

『 かけ算ピラミッド 』

◆となりどうしの2つの数の積が、上の  に入ります。

にあてはまる数を書こう。

(例)



# かけ算ピラミッド

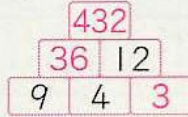


となりどうしの2つの数の積が、上の  に入ります。  
 にあてはまる数を書こう。

(例)



①



②



③

