

4年生 算数

合格マーク

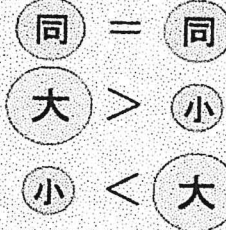


なかのくりつ きたはらしょうがっこう
中野区立北原小学校

3年のふく習 No.23
8 10000 より大きな数3

なまえ

= の記号を等号とといいます。
また, >, < の記号を不等号と
いいます。



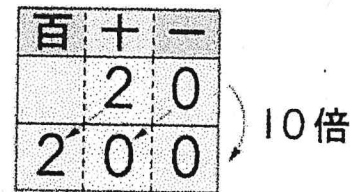
1. □ にあてはまる、=、>、<、の記号を書きましょう。

- ① 700万 > 400万
- ② 7000 = 2000 + 5000
- ③ 90000 - 60000 < 40000

- ① 47000 = 40000 + 7000
- ② 25000 < 30000
- ③ 800万 - 300万 > 400万

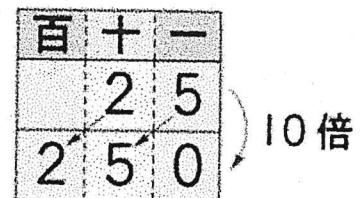
10倍した数

1 $20 \xrightarrow{10\text{倍}} 200$
 $20 \times 10 = 200$



2 25を, 20と5に分けて考えましょう。

$25 \left\langle \begin{array}{l} 20 \xrightarrow{10\text{倍}} 200 \\ 5 \xrightarrow{10\text{倍}} 50 \end{array} \right\rangle 250$
 $25 \times 10 = 250$



まとめ

数を10倍すると, 位が1つずつ上がり, もとの数の右に0を1こつけた数になります。